

ны быть целыми числа

$$x_1 + x_2 = -2 + \frac{5}{a+2} \text{ и } x_1 x_2 = a - 7 + 2 \frac{5}{a+2},$$

откуда $a + 2 = \pm 1; \pm 5$. Проверка показывает, что подходят только $a = -1, a = 3$.

Вариант 2

- $(-\infty; -1] \cup (2; 3]$.
- 1.
- $\frac{\pi}{4} - \arcsin \frac{\sqrt{2}}{3} + 2\pi n, n \in \mathbf{Z}$.
- а) 81; б) 1:3.
0. *Указание.* Функция $f(x) = 2 \cos 3x + 8|\sin x| - 7$ четная, кроме того, $f(0)f\left(\frac{2\pi}{3}\right) < 0$. Поэтому сумма корней на $\left[-\frac{2\pi}{3}; \frac{2\pi}{3}\right]$ равна 0. При $x \in \left(\frac{2\pi}{3}; \frac{3\pi}{4}\right]$ функция убывает, причем $f(x) > f\left(\frac{3\pi}{4}\right) > 0$.

ФИЗИКА

- $\Delta p = 2\sqrt{2mE} \operatorname{tg} \alpha$.
- $T = m \left(g - \frac{v^2}{8l} \right)$.
- $\eta = 1/18$.
- $n = \frac{p_{\text{н}}}{p - \frac{Mv}{MV}} = 4$ (здесь $p_{\text{н}} = 100$ кПа – давление насыщенного пара при 100°C , $M = 18$ г/моль – молярная масса воды).
- $n = 3$.
- $x = \frac{3mdv^2}{2eU}$.
- $P_{\text{max}} = \frac{(U - Ir)^2}{4r}$.
- $F_{\text{min}} = \frac{IBl}{mg} (mg - IBl) = 0,32$ Н.
- $t = \frac{\lambda \operatorname{arctg} 2}{2\pi c}$, где c – скорость света.
- $x = H \sin \alpha$.

Московский педагогический государственный университет

МАТЕМАТИКА

Письменный экзамен

Вариант 1

- 3 круга. *Указание.* Если один мотоциклист впервые догоняет другого, то это значит, что он проехал на один круг больше.
- $2\pi n, \pm \arccos\left(-\frac{4}{7}\right) + 2\pi k, n, k \in \mathbf{Z}$ (вторую серию решений можно записать по-другому: $\pm \arccos \frac{4}{7} + (2m+1)\pi, m \in \mathbf{Z}$); 5 решений. *Указание.* Уравнение $|f(x)| = |g(x)|$ равносильно совокупности уравнений

$$\begin{cases} f(x) = g(x), \\ f(x) = -g(x). \end{cases}$$

- $(0; 1)$. *Указание.* Рассмотрите случаи $x + 1 > 1$ и $0 < x + 1 < 1$.
- 4.
- $2/\sqrt{3}$. *Указание.* Рассмотрите сечение AA_1C_1C .

Вариант 2

- $\frac{\pi}{36\sqrt{3}} a^3 \operatorname{tg} \alpha$.
- $\frac{\pi}{4} + \frac{\pi n}{2}, \frac{\pi}{2} + \pi k, n, k \in \mathbf{Z}$.
- $(-\infty; 0) \cup \left(0; \frac{1}{3}\right]$.
- 110.
- $\arctg \frac{1}{3}$.

Вариант 3

108. *Указание.* Из равенства боковых ребер следует, что основанием высоты пирамиды является центр окружности, описанной около основания. Радиус этой окружности можно найти, например, из равенства $4RS = abc$.
- $\pm \frac{2\pi}{3} + 2\pi n, n \in \mathbf{Z}$. *Указание.* Не забудьте проверить, входят ли найденные решения в ОДЗ.
- $(3; 4,5) \cup (8; +\infty)$.
- 0; 3.
- $y = \frac{1}{2}x - \frac{1}{2}$.

Вариант 4

- $8\sqrt{6}/3$.
- $-\frac{\pi}{4} + \pi n, n \in \mathbf{Z}$.
- $(-\infty; \log_2 3)$.
- 1/12.
10. Этот единственный максимум есть $f(1)$.

Задачи устного экзамена

- $\pm \frac{\pi}{3} + 2\pi n, n \in \mathbf{Z}$.
- $\left(-\infty; \frac{1}{4}\right) \cup \left(\frac{5}{4}; +\infty\right)$.
- $[-3; -1) \cup (2; 3]$.
- $(1; +\infty)$. *Указание.* Рассмотрите случаи $l < 0, l = 0, l > 0$.
- $-36/5$. *Указание.* Перейдите к логарифмам по одному основанию, например c , и обозначьте $\log_c b = x$.
- -1 . *Указание.* Преобразуйте произведение тригонометрических функций в сумму.
- $-24/25$. *Указание.* Можно воспользоваться формулами, выражающими $\sin 2t$ и $\cos 2t$ через $\operatorname{tg} t$.
22. *Указание.* Проверив, что уравнение имеет корни, выразите данное выражение через $x_1 + x_2$ и $x_1 x_2$.
- -8 . *Указание.* Выразите сумму кубов корней уравнения через $x_1 + x_2$ и $x_1 x_2$. Проверьте, имеет ли данное уравнение корни при найденном значении l .
- 11, 12. См. рис.13, 14, 15.
- 36.
- 9; $9\sqrt{6}$.

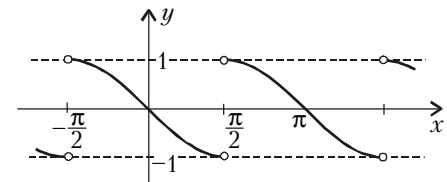


Рис. 13

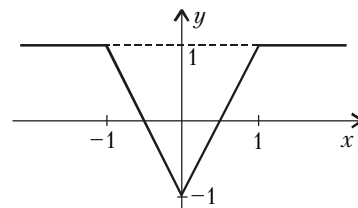


Рис. 14

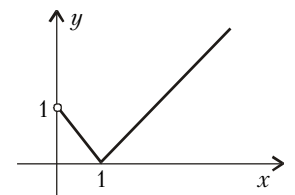


Рис. 15

ФИЗИКА

- $x = 58,8$ м; $v = 19,6$ м/с.
- $v = 7,7 \cdot 10^3$ м/с.
- $m = 0,034$ кг.
- $m = 0,2$ кг.
- $\alpha = 0,8$.
- $U = 1,7$ В.
- $v = 1,9 \cdot 10^5$ м/с.
- $\delta = 65^\circ$.
- $v = 7,7 \cdot 10^{15}$ Гц.
- $E = 6,63 \cdot 10^{-22}$ Дж; $p = 2,2 \cdot 10^{-29}$ кг·м/с.