

Рис. 8

$ABC$  под углом  $2\varphi$ . Отсюда следует, что проекция  $O'$  точки  $D$  на плоскость  $ABC$  равноудалена от  $AB$ ,  $BC$  и  $CA$  и, учитывая то, что точки  $O'$  и  $C$  лежат по одну сторону от  $AB$ ,  $O'$  и  $B$  — от  $AC$ ,  $O'$  и  $A$  — от  $BC$ , получаем, что  $O' = O_1$ , т.е.  $DO_1$  — высота тетраэдра.

Поскольку  $AB \perp O_1C_1$  и  $AB \perp DO_1$ , то  $AB \perp DO_1C_1$ . Опустим из точки  $O$  перпендикуляры  $OH_1$  и  $OM_1$  на  $DB_1$  и  $DC_1$ . Тогда  $OH_1 \perp ADC$ , так как  $OH_1 \perp DB_1$  и  $OH_1 \perp AC$  ( $AC \perp DO_1B_1$ ). Значит,  $H_1 = H$ , т.е.  $H \in DB_1$ . Аналогично,  $OM_1 \perp ADB$ , т.е.  $M_1 = M$  и, значит,  $M \in DC_1$ . Итак, прямая  $DM$  — одновременно медиана и высота  $\triangle ADB$ , значит,  $AD = DB$ . Тогда  $AO_1 = BO_1$ , следовательно,  $AC = BC$  и точки  $C$ ,  $O_1$ ,  $C_1$  лежат на одной прямой.

По теореме о трех перпендикулярах  $CO \perp AD$  ( $OH \perp ADC$  и  $CH \perp AD$ ), кроме того,  $CO \perp AB$  ( $AB \perp CDC_1$ ), поэтому  $CO \perp ADB$ . Но  $OM \perp ADB$ , значит, точка  $O$  лежит на  $CM$ . Отсюда следует, что  $M$  — центр окружности, вписанной в  $\triangle ADB$  (основание конуса с вершиной  $C$ , описанного около сферы, — вписанная в  $\triangle ADB$  окружность). Рассмотрим  $\triangle CDC_1$ . В нем  $DO_1$  и  $CM$  — высоты,  $C_1O$  — биссектриса, значит,  $C_1D = C_1C$ , откуда  $C_1O_1 : O_1C = C_1M : MD = 1 : 2$ . Центры вписанных окружностей  $\triangle ABC$  и  $\triangle ADB$  являются точками пересечения медиан, поэтому  $\triangle ABC$  и  $\triangle ADB$  — равносторонние.

Отсюда, учитывая то, что высота пирамиды попадает в центр основания  $ABC$ , получаем, что тетраэдр — правильный.

### XXXI ВСЕРОССИЙСКАЯ ОЛИМПИАДА ШКОЛЬНИКОВ ПО ФИЗИКЕ

#### Теоретический тур

##### 9 класс

- $u > \sqrt{v_0^2 - 2gH}$ . 2.  $i = v_0^2 / (6\mu g)$ . 3.  $\tau = 42$  с.
- В зависимости от порядка включения резисторов в цепь амперметр  $A_1$  будет показывать либо 4,8 А, либо 5 А.

##### 10 класс

- 1)  $r = r_0 + mg / (4\pi^2 k t g \alpha)$ ; 2)  $\omega = \pi \sqrt{2k/m}$ .
- Сила натяжения максимальна в точке  $A$  и равна  $T_{\max} = mg(H^2 + l^2) / (2HL)$ .
- 1)  $x = 0,45\%$ ; 2)  $\rho_1 / \rho_2 = 2,9$ .
- $r_0 = \frac{r}{2} + \sqrt{\frac{r^2}{4} + Rr}$ ,  $\varepsilon_0 = \varepsilon r_0 / r$ .
- 1), 2) См. рис.9; 3) если предметом является маленькая стрелка, то линза собирающая, а если большая — то рассеивающая.

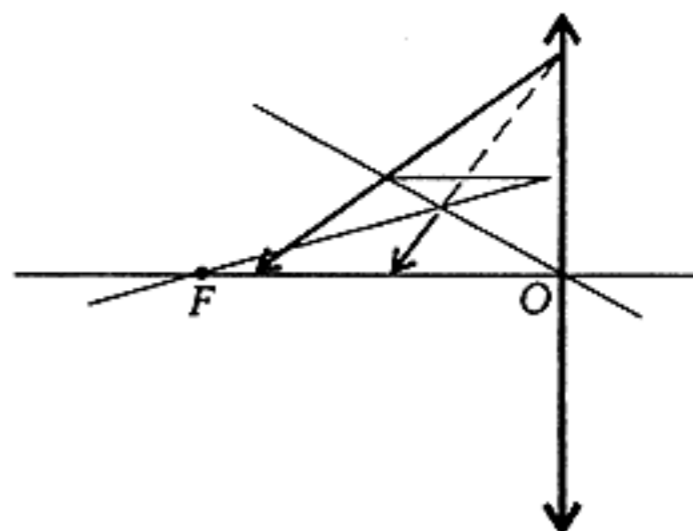


Рис. 9

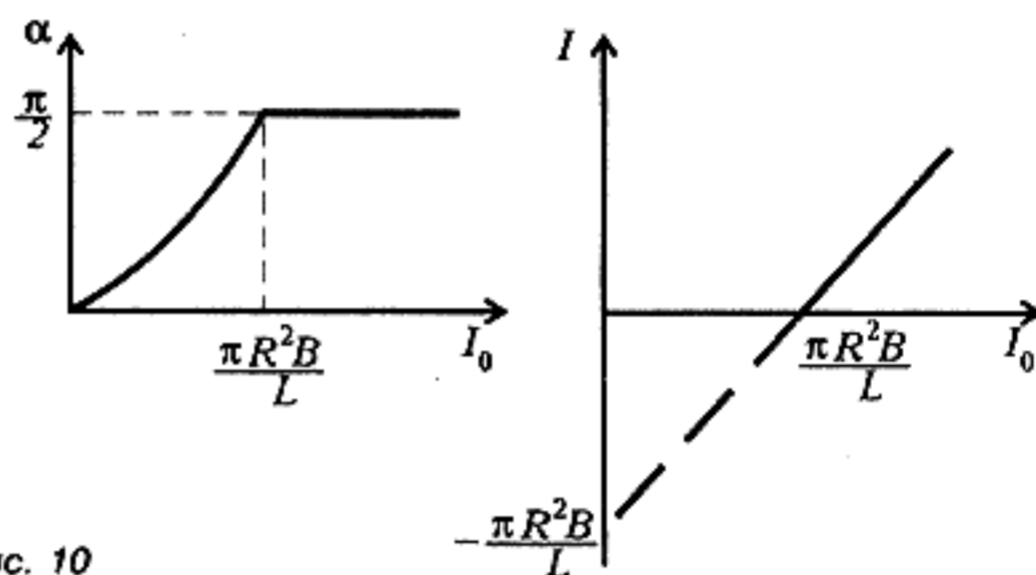


Рис. 10

#### 11 класс

- 1)  $\Delta x = \Delta x_0 / 2$ ;
- 2)  $T = 2\pi \sqrt{(m + M/3) \Delta x_0 / (Mg)}$ .
- 1) Шарик 1 окажется на оси вращения, шарик 2 останется на своем месте, а шарик 3 упрется в боковую стенку цилиндра;
- 2)  $F_1 = 4\pi \rho_0 r^3 g / 3$ ,  $F_2 = 4\pi \rho_0 r^3 \sqrt{g^2 + \omega^4 R^2} / 4 / 3$ ,  
 $F_3 = 4\pi \rho_0 r^3 \sqrt{g^2 + \omega^4 R^2} / 3$ .
- 1), 2) См. рис.10;
- 3)  $A = \pi R^2 B (I_0 - \pi R^2 B / (2L)) + 2MgR$ .

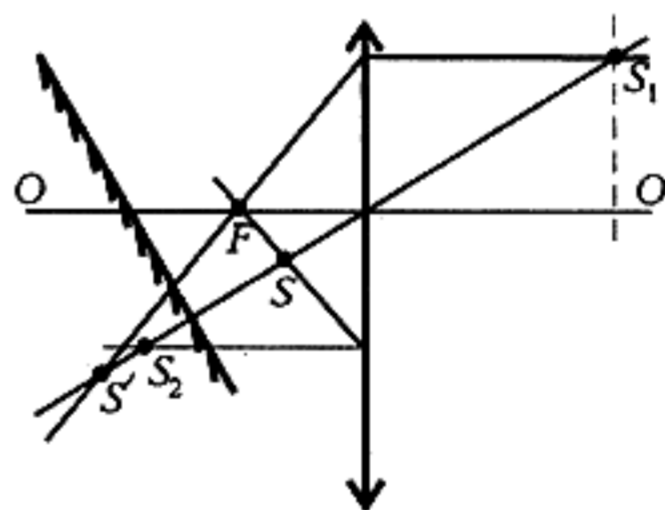


Рис. 11

- 1)  $U_0 = \sqrt{2Mgd^2 / (\varepsilon_0 S)}$ ; 2)  $v = \sqrt{2gd}$ .
- См. рис.11.

### ПЕРВЫЕ МЕЖДУНАРОДНЫЕ МАТЕМАТИЧЕСКИЕ СОРЕВНОВАНИЯ САМАЙОЛУ КОЛЛЕДЖА В ТУРЦИИ

- Разобьем числа 1, 2, ..., 1996 на пары: {1; 1996}, {2; 1995}, ..., {998; 999}. Сумма чисел в каждой такой паре равна 1997, при этом найдется по крайней мере  $n$  пар таких, что оба числа пары принадлежат выбранному множеству. Сумма всех чисел из этих пар равна  $1997n$ .
- Возможны два случая расположения точки  $P$  на прямой  $AC$ . Рассмотрим первый случай, когда  $P$  лежит на стороне